





Caută în careu numele țărilor din lista de mai jos.  
 Aceste nume pot fi scrise de la stânga la dreapta,  
 de la dreapta la stânga, de sus în jos, de jos în sus și pe diagonală.

Belgia – Germania – Franța – Irlanda – Italia  
 România – Norvegia – Austria – Spania – Anglia




A	B	K	A	I	L	A	T	I	V	L	E
I	I	E	K	J	N	I	L	B	A	D	F
G	J	E	L	K	X	W	N	N	D	N	R
E	H	M	N	G	E	R	M	A	N	I	A
V	I	K	Q	N	I	K	X	A	A	L	N
R	O	M	Â	N	I	A	S	A	L	R	Ț
O	S	E	R	D	N	O	I	R	R	E	A
N	L	R	I	A	L	R	W	I	I	B	R
T	P	A	R	I	T	C	C	D	L	O	I
S	U	M	Q	S	V	A	N	G	L	I	A
M	B	R	U	X	E	L	L	E	S	H	G
A	W	A	I	N	A	P	S	Z	J	E	E

Completează careul de mai jos. Pe fiecare rând și coloană se află un număr egal de cercuri și triunghiuri. Nu pot fi mai mult de două cercuri sau triunghiuri alăturate sau unele deasupra celorlalte.



În parcul de distracții este haos! Găsește și încercuiește bebelușul, laptopul, oaia, vata de zahăr, fluierul și roata de bicicletă.

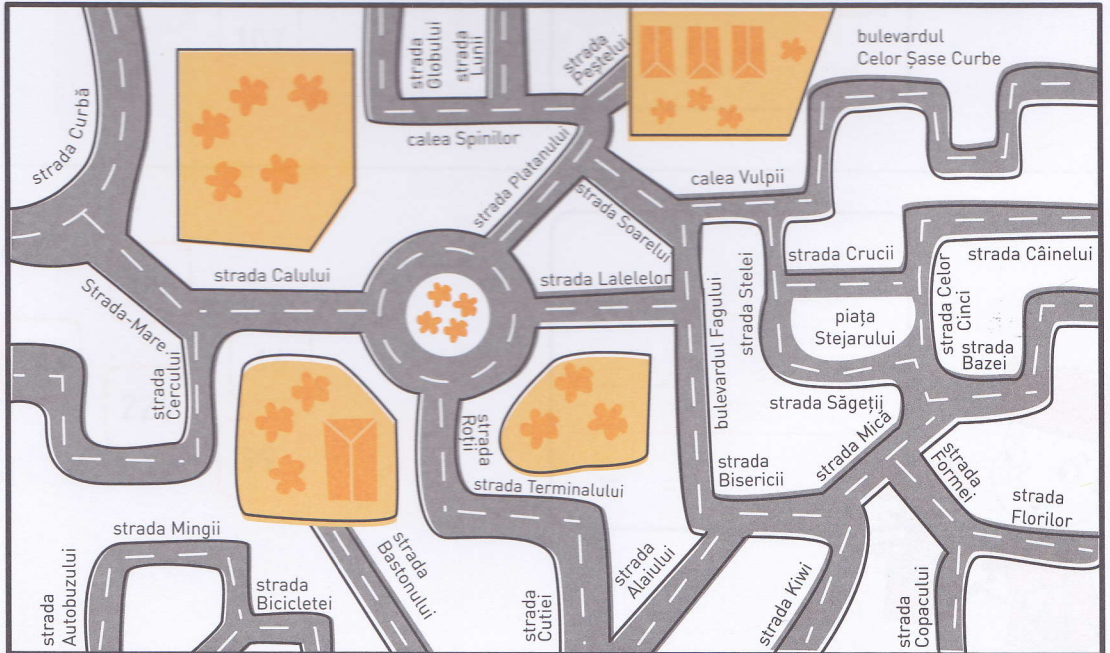
Respect pentru oameni și cărți



1 Vin de pe strada Copacului, fac stânga și merg până la intersecția în T, unde o iau la stânga. Urmez drumul spre dreapta. La capătul străzii fac iar dreapta, apoi a doua stradă la stânga. Pe ce stradă sunt?

2 În fața mea văd o intersecție cu sens giratoriu. Ies pe a treia ieșire și fac stânga pe strada Cercului. De pe ce stradă am plecat?

3 Locuiesc pe strada Formei și prietenul meu, pe strada Peștelui. Care este drumul cel mai scurt până la el? Trasează-l pe hartă.



Mută 4 cartonașe spre dreapta pentru ca următoarele calcule să fie corecte. Ce cartonaș rămâne la stânga?

A.

64

33

98

37

67

+

-

=

B.

158

204

313

49

107

-

+

=

C.

88

143

226

16


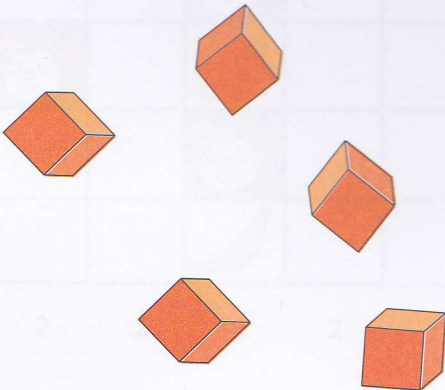

99

+

-

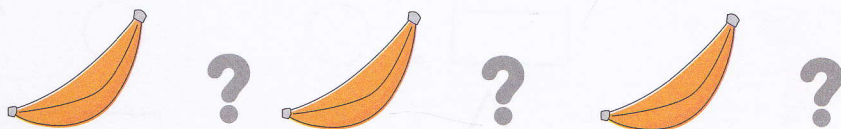
=





Desenează bananele la locul potrivit. Cifrele indică numărul bananelor de pe rânduri și coloane. Bananele nu trebuie să se atingă unele de altele (nici pe diagonală).

Atenție: deasupra, dedesubt sau lângă fiecare maimuță se află o banană. Uneori, banana unei maimuțe se află lângă o altă maimuță (privește cu atenție exemplul de mai jos).



3										
1										
3										
2										
1										
3										
2										
2										
2										
2										
	2	2	3	2	1	2	2	2	3	2

Folosește-te de cele 4 numere scrise pe cercuri pentru a obține numărul scris pe stea. Poți să aduni, să scazi, să înmulțești și să împarți. Fiecare număr poate fi folosit o singură dată!

3      8      11      19

○ ..... ○ =

..... ○ = 

 ..... ○ = 

5      9      15      18

○ ..... ○ =

..... ○ = 

 ..... ○ = 

7      13      16      18

○ ..... ○ =

..... ○ = 

 ..... ○ = 